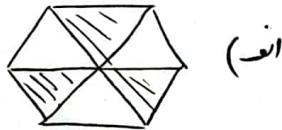
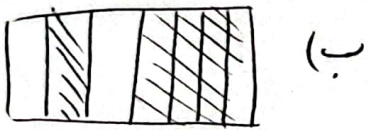


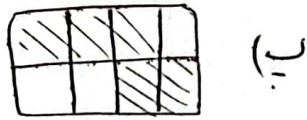
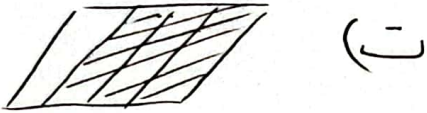
« فاشی سرطوطی »

(۱) [۸۸] سر

(۲) [۸۸] ۴ سمت از ۹ سمت مادی



(۴) [۸۷]



(۴) [۸۷] نرینه‌ی (۲)

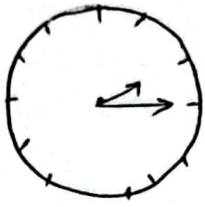
(۵) [۸۸] نرینه‌ی (۲) ۲ سمت از ۳ سمت مادی روی محور نرینه‌ی (۲) مشخص است.

(۶) [۸۷] الف) ۴ سمت مادی ب) ۵ واحد و ۲ سمت از ۴ سمت مادی

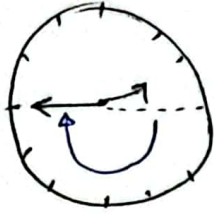
(۷) [۸۷] الف) ۸ سمت مادی رند شده است.

ب) ۲ سمت از ۴ سمت مادی فمن شده است.

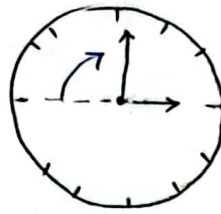
پ) ۲ سمت از ۶ سمت مادی رند شده است.



۲:۱۵



۲:۴۵



بدصحت از ۴ صحت  
ساعت



بدصحت از دو صحت ساعت



صحت از ۴ صحت ساعت

پایه بخاری : مرتبی از ۱۵۶ دانش آموزی که در کلاس ریاضی ثبت نام کرده اند،  
به ۴۸ نفرشان ضربه درسی داده است. او باید به چند نفر

(۹) [۸۹]

رکیز ضربه بدهد؟  آید او علاوه بر تمام این دانش آموزان

۱۱۰ دانش آموز در پایه سوم دبستان دانش با شد و نخواهد بود

مصاب روز دانش آموز به همه آن ها هدیه بدهد، باید چند هدیه

بخرد؟

$$\begin{array}{r} 156 \xrightarrow{\text{تقریبی}} 160 \\ - 48 \quad - 50 \\ \hline 108 \quad 110 \end{array}$$

$$\begin{array}{r} 160 \text{ (تقریبی)} \\ + 110 \xrightarrow{\text{تقریبی}} 270 \\ \hline 270 \end{array}$$