

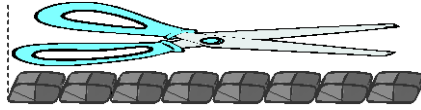
آزمون فصل ۵ - موضوع ۱ - اندازه‌گیری طول و اندازه‌گیری دقیق‌تر - ریاضی دوم دبستان

الف) درستی یا نادرستی عبارت‌های زیر را مشخص کنید.

- درست ○ نادرست
○ درست ○ نادرست

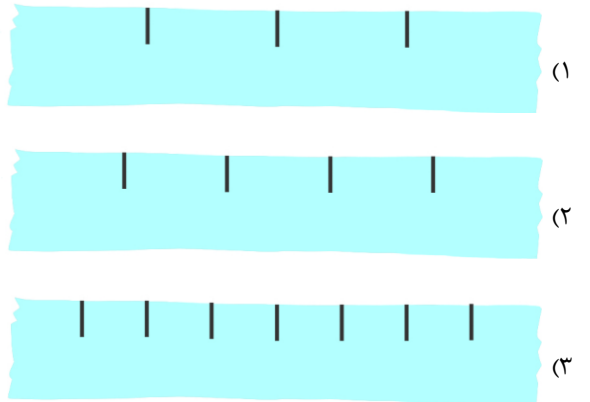
۱- یک ربع همان ۳۰ دقیقه است.

۲- اندازه‌ی طول قیچی بین ۷ پاک‌کن و ۸ پاک‌کن است.



ب) گزینه‌ی درست را با علامت ✓ مشخص کنید.

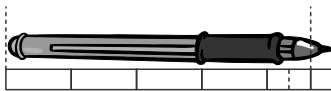
۳- کدام یک از نوارهای کاغذی زیر برای اندازه‌گیری طول اشیاء مناسب نیست؟



۴- یک ربع قبل از شش و نیم چه ساعتی می‌شود؟

- (۱) ۶:۱۵
(۲) ۶:۳۰
(۳) ۵:۱۵

۵- اگر هر برابر با ۳ تا باشد، کدام جمله درباره‌ی شکل زیر درست است؟




(۱) اندازه‌ی خودکار بین ۴ و ۵ است.

(۲) اندازه‌ی خودکار ۵ است.

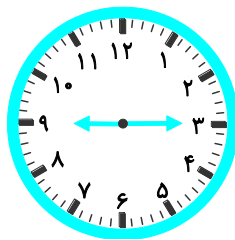
(۳) اندازه‌ی خودکار ۱۴ است.

پ) به سؤال‌های زیر پاسخ دهید.

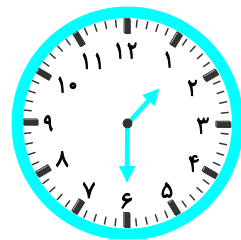
۶- زمانی که هر ساعت نشان می‌دهد به دو صورت بنویسید. (بابل - مدرسه‌ی شاهد - ۹۷)



.....
.....

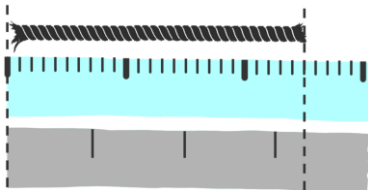


.....
.....



.....
.....

۷- با توجه به شکل زیر:

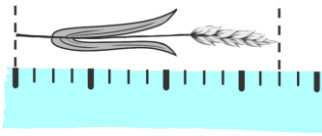


الف) با نوار کاغذی (الف) اندازه‌ی طول طناب چند قسمت بزرگ و چند قسمت کوچک است؟

ب) با نوار کاغذی اندازه‌ی طول طناب چند قسمت است؟

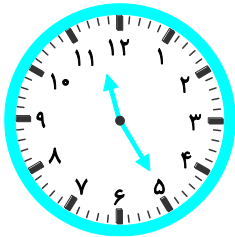
پ) چرا عددهای مختلفی به دست آمد؟ اندازه‌گیری با کدام نوار دقیق‌تر است؟

۸- با توجه به شکل زیر:



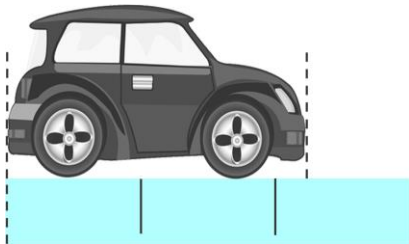
- الف) اندازه‌ی طول شاخه‌ی گندم چند قسمت کوچک است؟
ب) اندازه‌ی طول شاخه‌ی گندم چند قسمت بزرگ و چند قسمت کوچک است؟
پ) اگر بخواهیم اندازه‌ی طول گندم را دقیق‌تر بگوییم، باید چه کار کنیم؟

۹- الف) ساعت چند است؟




- ب) چند دقیقه‌ی دیگر ساعت یازده و نیم می‌شود؟
پ) یک ربع قبل ساعت چند بوده است؟

۱۰- ماکان می‌خواهد طول ماشین اسباب‌بازی‌اش را با نوار کاغذی اندازه بگیرد.



الف) اندازه‌ی طول ماشین او چقدر است؟ اندازه‌ی طول ماشین بین و قسمت مساوی است.

ب) اگر ماکان هر قسمت بزرگ را به سه قسمت مساوی کوچک تقسیم کند، اندازه‌ی طول ماشین چقدر می‌شود؟



پ) حالا شما نوار کاغذی قسمت (ب) را به قسمت‌های کوچک‌تر تقسیم‌بندی کنید. اندازه‌ی طول ماشین چقدر می‌شود؟

ت) اندازه‌گیری با کدام نوار دقیق‌تر است؟