

پاسخ فصل ۷: موضوع (۱) - حل مسئله و جدول داده و احتمال ریاضی سوم دبستان

۱- نادرست [۸۷] و [۸۹]

۲- درست [۸۸]

۳- گزینه‌ی «۳» [۸۹]

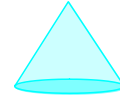
۴- گزینه‌ی «۱» [۸۴]

۵- الف) یکشنبه (ب) پنج‌شنبه (پ) ۲۰ کتاب (ت) شنبه و چهارشنبه [۸۶]

۶- [۸۷] و [۸۹]

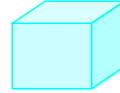
نام شکل: مخروط

نام وسیله: کله قند




نام شکل: مکعب

نام وسیله: حبه قند



نام شکل: استوانه

نام وسیله: کنسرو لوبیا



۷- [۸۸]

احتمال ندارد	به احتمال بیشتر	به احتمال کمتر
<input checked="" type="radio"/>	<input type="radio"/>	<input type="radio"/>
<input type="radio"/>	<input checked="" type="radio"/>	<input type="radio"/>
<input type="radio"/>	<input type="radio"/>	<input checked="" type="radio"/>

الف) کارت لوزی شکل در بیاوریم.

ب) کارت مثلثی شکل در بیاوریم.

پ) کارت مربعی شکل در بیاوریم.

۸- الف)

هفته	هفته‌ی اول	هفته‌ی دوم	هفته‌ی سوم	هفته‌ی چهارم
تعداد غائبین	۲۰	۱۵	۳۲	۴۰

ب) ۱- هفته‌ی چهارم ۲- هفته‌ی دوم ۳- ۳۲ نفر [۸۵] و [۸۶]

۹- [۸۴]

$$\square \times 2 + 20 = 36$$

$$\text{حدس اول: } \square 6 \times 2 + 20 = 12 + 20 = 32 \times$$

$$\text{حدس دوم: } \square 7 \times 2 + 20 = 14 + 20 = 34 \times$$

$$\text{حدس سوم: } \square 8 \times 2 + 20 = 16 + 20 = 36 \checkmark$$