

آزمون فصل ۴ - موضوع ۱ - معرفی پول و معرفی عددهای سه رقمی - ریاضی دوم دبستان

الف) جاهای خالی را با عبارت مناسب پر کنید.

۱- ده تا دسته ده تایی برابر است با

۲- ۲۰ سکه ۱ ریالی برابر سکه ۱۰ ریالی است و ۱۰ سکه ۱۰ ریالی برابر سکه ۱۰۰ ریالی است.

(اصفهان - مدرسه صفریان - ۹۹ - بانددکی تغییر)

ب) گزینه ی درست را با علامت ✓ مشخص کنید.

۳- سامان می خواهد پول های فلکش را با یک سکه ۵۰۰ ریالی پدرش عوض کند. او باید چه سکه هایی به پدرش بدهد؟

۱) ۵ سکه ۱۰ ریالی ۲) ۵ سکه ۱۰۰ ریالی ۳) ۵۰ سکه ۱۰۰ ریالی

۴- عدد کدام گزینه با بقیه فرق دارد؟

۱)

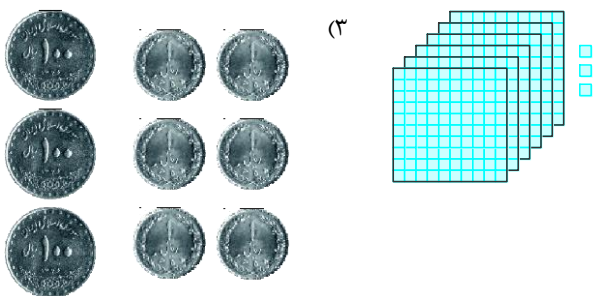
ص	د	ی
۶	۰	۳

 ۲)

ص	د	ی
۶	۰	۳

 ۳)

ص	د	ی
۶	۰	۳



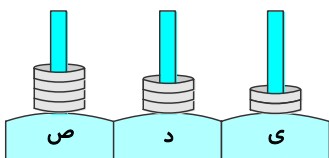
۵- در چرتکه ی زیر اگر سه حلقه از قسمت ده تایی برداریم و یکی از آنها را در قسمت صدتایی ها و دوتای دیگر را در قسمت یکی ها قرار

دهیم، چه عددی ساخته می شود؟

۱) ۵۰۴

۲) ۶۰۳

۳) ۵۴



پ) به سؤال های زیر پاسخ دهید.

۶- به عدد یا حروف بنویسید. (قم - مدرسه خاتم الانبیاء - ۹۸)

پانصد و هفتاد و سه ۳۷۹

نهصد و هفت ۸۰۲

۷- عددها را در جدول قرار دهید و سپس در جای خالی عدد مناسب بنویسید. (تهران - مدرسه هیئت امنایی هدایت - ۹۹ - بانددکی تغییر)

ص	د	ی

یک صدتایی و ۵ ده تایی و ۸ یکی می شود

ص	د	ی

۶۷۴ یعنی صدتایی و ده تایی و یکی.

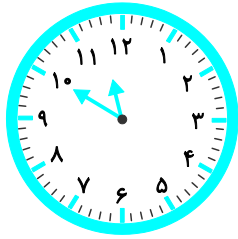
۸- الف) سکه ها چه عددی را نشان می دهند؟ در جدول بنویسید. (تهران - مدرسه نداالنبی - ۹۸ - بانددکی تغییر)



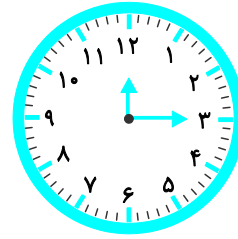
ص	د	ی

ب) اگر فاطمه ۱۰ تا سکه ۱۰ ریالی و ۲ سکه ۲۵۰ ریالی به بانک بدهد، بانک باید به او چقدر پول بدهد؟

۹- الف) جاهای خالی را کامل کنید.

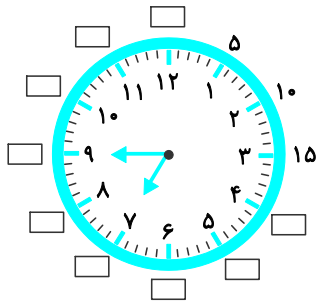


ساعت : است.



۳۰ دقیقه بعد ساعت : می شود.

ب) دقیقه‌ها را داخل مربع‌ها کامل کنید و زمانی را که نشان می‌دهد به سه شکل بنویسید. (قم - مدرسه‌ی خاتم‌الانبیاء - ۹۸)



..... :

ساعت و دقیقه

..... دقیقه مانده به ساعت

۱۰- الگوهای عددی زیر را کامل کنید. (قم - مدرسه‌ی خاتم‌الانبیاء - ۹۸)

۲۰-۱۲۰-۲۲۰-.....-.....-.....

۵-۹-۱۳-.....-.....-.....

۲-۱۰-۱۸-.....-.....-.....

۳-۸-۱۳-.....-.....-.....