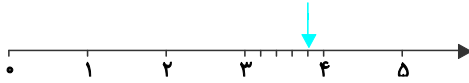


آزمون موضوع ۲ - فصل ۳ ریاضی سوم دبستان

الف) جاهای خالی را با عبارت مناسب پر کنید.

۱- کسر $\frac{1}{4}$ را و کسر $\frac{1}{3}$ را می‌گوییم. (اردبیل - مدرسه‌ی افسر صادقی (۱) - ۹۸)

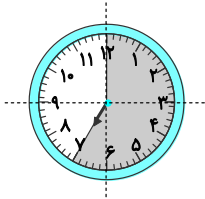
۲- با توجه به محور، جای خالی را کامل کنید. (بهبهان - مدرسه‌ی شاهد امام کاظم (ع) - ۹۷)



کسر مانده به عدد ۴.

ب) گزینه‌ی درست را با علامت مشخص کنید.

۳- در شکل روبه‌رو عقربه‌ی ساعت چند دقیقه‌ی دیگر باید رو به جلو حرکت کند تا ۳ قسمت از ۴ قسمت ساعت کامل شود؟




(اردبیل - مدرسه‌ی افسر صادقی (۱) - ۹۸)

(۱) ۱۵ دقیقه

(۲) ۱۰ دقیقه

(۳) ۲۵ دقیقه

۴- شکل روبه‌رو چه کسری کم دارد تا سه واحد کامل شود؟ (بهبهان - مدرسه‌ی شاهد امام کاظم (ع) - ۹۷)




(۱) $\frac{4}{4}$

(۲) $\frac{1}{4}$


(۳) $\frac{3}{4}$

پ) به سؤال‌های زیر پاسخ دهید.

۵- برای هر کدام از شکل‌های زیر ۳ کسر مساوی بنویسید و شکل آن‌ها را رسم کنید. (بیرجند - مدرسه‌ی سما - ۹۹ - با اندکی تغییر)



..... = =



..... = =

۶- کسرهای زیر را روی محور نمایش دهید. (بوشهر - مدرسه‌ی سما - ۱۴۰۰)



$\frac{3}{4}$ واحد قبل از عدد ۶



$\frac{1}{6}$ واحد بعد از عدد ۲

۷- دایره‌ای به شعاع ۲ سانتی‌متر رسم کنید. آن را به ۶ قسمت مساوی تقسیم کنید و ۴ قسمت آن را رنگ کنید و کسر مربوط به آن را

بنویسید. (اردبیل - مدرسه‌ی سما - ۹۹)

۸- مطابق شکل زیر دونه‌ای $\frac{2}{10}$ واحد مانده به خط پایانی توقف کرده است. مقدار کل مسافتی که دویده است، چند متر است؟ (بیرجند - مدرسه‌ی سما - ۹۹)

