


## آزمون موضوع ۱ - فصل ۳ ریاضی سوم دبستان

الف) جاهای خالی را با عبارت مناسب پر کنید.

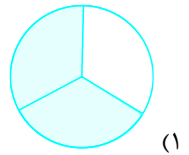
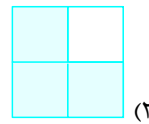
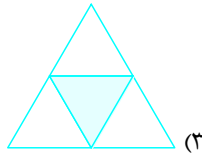
۱- در کسر  $\frac{5}{9}$  به عدد ۹ ..... گفته می‌شود. (بهبهان - مدرسه‌ی شاهد اما کاظم (ع) - ۹۷ - با اندکی تغییر)

۲- در شکل روبه‌رو ..... قسمت از ..... قسمت مساوی رنگ شده است.



ب) گزینه‌ی درست را با علامت ✓ مشخص کنید.

۳-  $\frac{1}{3}$  کدام شکل رنگ نشده است؟ (بهبهان - مدرسه‌ی شاهد امام کاظم (ع) - ۹۷)




۴- سنجاب زیرکی گردویی را به ۴ قسمت مساوی تقسیم کرد و هر قسمت را به دو نیمه‌ی دیگر تقسیم کرد. سپس ۳ تا از آن قسمت‌ها را خورد، چه کسری از گردوها را خورده است؟ (بهبهان - مدرسه‌ی شاهد امام کاظم (ع) - ۹۷)

(۳)  $\frac{5}{8}$

(۲)  $\frac{3}{8}$

(۱)  $\frac{2}{4}$

۵- آقا غلام کشاورز است. او در نیمه‌ی از باغچه‌ی مستطیل شکل خود جعفری کاشت، و نیم دیگر را به ۳ قسمت تقسیم کرد. یک قسمت را شوید و یک قسمت را تربچه کاشت. شکل زمین آقا غلام را کامل کنید، و به سؤالات زیر جواب دهید. (تهران - مدرسه‌ی هما - ۹۸)




الف) چه کسری از زمین را شوید کاشته است؟

ب) چه کسری از زمین را جعفری کاشته است؟

پ) چه کسری از زمین را چیزی نکاشته است؟

پ) به سؤال‌های زیر پاسخ دهید.

۶-  $\frac{1}{3}$  شکل‌ها را به طور تقریبی رنگ کنید.



۷- هر یک از کسرهای داده شده را هم روی شکل و هم روی محور نشان دهید. (بوشهر - مدرسه‌ی سما - ۱۴۰۰ - با اندکی تغییر)

(ب)  $\frac{3}{8}$

الف)  $\frac{2}{6}$

۸- دانیال فاصله‌ی بین درخت گردو و بادام را با ۸ قدم و علیرضا با ۱۰ قدم اندازه گرفتند. اندازه‌ی قدم‌های کدام یک بزرگتر است؟ چرا؟ (بیرجند - مدرسه‌ی سما - ۹۹ - با اندکی تغییر)

