

آزمون فصل ۱ - موضوع (۲) ریاضی سوم دبستان

الف) درستی یا نادرستی عبارتهای زیر را مشخص کنید.

○ درست ○ نادرست

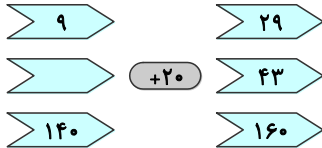
۱- تاس بازی به شکل مکعب مربع است.

○ درست ○ نادرست

۲- در ماشین ۹۵ (قلب) +۱۰ (قلب) برای به دست آوردن عدد ورودی، باید ۹۵ را با ۱۰ جمع کنیم.

ب) گزینه‌ی درست را با علامت ✓ مشخص کنید.

۳- کدام عدد در جای خالی قرار می‌گیرد؟ (اردبیل - مدرسه‌ی افسر صادقی (۲) - ۹۹ با کمی تغییر)

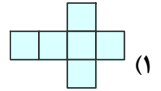
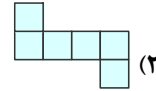
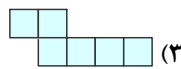


۶۳ (۳)

۲۹ (۲)

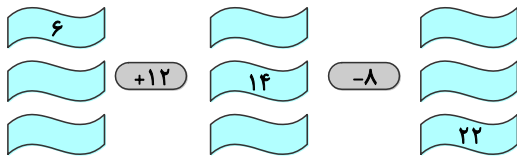
۲۳ (۱)

۴- کدام یک از شکل‌های زیر گسترده‌ی مکعب نیست؟

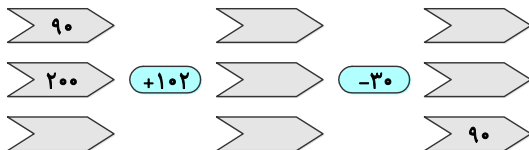


پ) به سؤال‌های زیر پاسخ دهید.

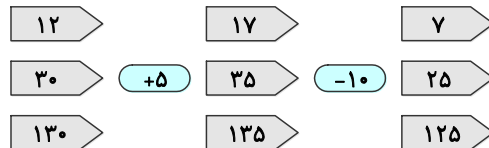
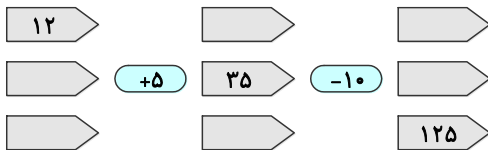
۵- خانه‌های خالی را با عدد مناسب پر کنید. (اردبیل - مدرسه‌ی افسر صادقی (۱) - ۹۸)



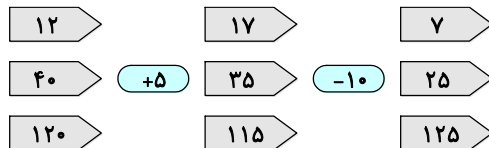
۶- ماشین ورودی - خروجی را کامل کنید. (بهبهان - مدرسه‌ی شاهد امام کاظم (ع) - ۹۷)



۷- کدام دانش‌آموز کار ماشین‌های ورودی - خروجی را به درستی نشان داده است؟ (توضیح دهید.)



دانش‌آموز اول



دانش‌آموز دوم

۸- سینا با خط‌کش شکسته‌ی زیر طول ۳ مداد را اندازه گرفت. او نقطه‌ی ۳ را شروع خط‌کش در نظر گرفت و اندازه‌های ۹، ۱۲ و ۱۵ سانتی‌متر را به دست آورد. با استفاده از ماشین ورودی - خروجی به سینا کمک کنید تا اندازه‌ی واقعی مدادها را به دست آورد.

