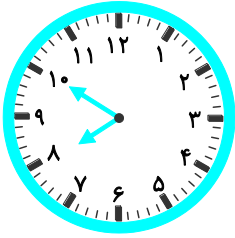


## آزمون موضوع ۳- فصل ۱- ریاضی دوم دبستان

الف) جاهای خالی را با عبارت مناسب پر کنید.

۱- پاییز و زمستان روی هم ..... نقطه دارند.

۲- ساعت از ..... گذشته و به ..... مانده است.



ب) گزینه‌ی درست را با علامت ✓ مشخص کنید.

۳- کدام جمله‌ی زیر درست است؟

۱) عقربه‌ی کوچک ساعت، عقربه‌ی دقیقه شمار است.

۲) عقربه‌ی کوچک ساعت، عقربه‌ی ساعت شمار است.

۳) عقربه‌ی بزرگ ساعت، عقربه‌ی ساعت شمار است.

۴- حاصل عبارت زیر کدام گزینه است؟ (تهران - مدرسه‌ی نداءِ النبى - ۹۸ - با اندکی تغییر)

$$۵ + ۵ + ۴۰ + ۳۰$$

۶۰ (۳)

۷۰ (۲)

۸۰ (۱)

۵- علی ۱ دسته‌ی ده‌تایی و ۵ شاخه گل دارد. شادی ۲ دسته‌ی ده‌تایی و ۴ شاخه گل دارد. علی و شادی چند شاخه گل دارند؟ (اصفهان

- مدرسه‌ی صفریان - ۹۹)


۳۹ (۳)

۴۰ (۲)

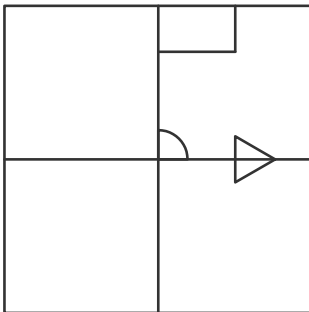
۱۲ (۱)

پ) به سؤال‌های زیر پاسخ دهید.

۶- مانند نمونه با شابلون و کشیدن چند شکل دایره شکل‌های جدید رسم کنید.



۷- سه قسمت دیگر شکل را مانند نمونه با خط کش یا شابلون کامل کنید؛ طوری که اگر شکل را از روی خط‌ها تا کنیم قسمت‌های چپ و راست و بالا و پایین روی هم باشند.



۸- الف) حاصل جمع را با رسم شکل به دست آورید. (تهران - مدرسه‌ی نداءِ النبى - ۹۸)

$$۶ + ۵ + ۴ =$$


ب) مربع‌های زیر را با سه رنگ مختلف رنگ کنید و جمع را کامل کنید.



$$\dots + \dots + \dots = ۹$$

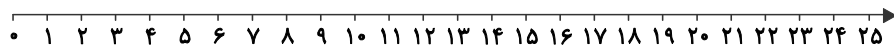


$$\dots + \dots + \dots = ۹$$



$$\dots + \dots + \dots = ۹$$

۹- در پارکی ۱۶ بچه بازی می کردند. ۷ بچه دیگر هم به آنها اضافه شد، حالا چند بچه آنجا بازی می کنند؟ (باسوج - مدرسه‌ی سما - ۹۸)



۱۰- برای محور زیر مسئله‌ای مناسب بنویسید.

