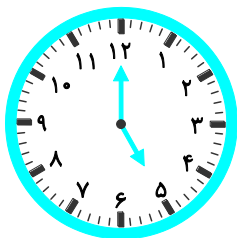


آزمون موضوع ۱ - فصل ۱ - ریاضی دوم دبستان

الف) جاهای خالی را با عبارت مناسب پر کنید.

۱- ساعت است. (آذربایجان شرقی - مدرسه‌ی شهید باهنر - ۹۹ - با اندکی تغییر)



۲- علی دو سال از خواهرش ثریا بزرگ‌تر است. با توجه به تصویر علی سال سن دارد. (قم - مدرسه‌ی خاتم الانبیاء - ۹۷)



ب) گزینه‌ی درست را با علامت ✓ مشخص کنید.

۳- عدد قبل از ۹ به حروف و عدد بعد از ۵ به عدد است.


- (۱) هفت - ۷ (۲) ده - ۴ (۳) هشت - ۶

۴- برای سرشماری تعداد میزهای یک کلاس چوب‌خط‌های زیر کشیده شده است. در این کلاس چند میز وجود دارد؟

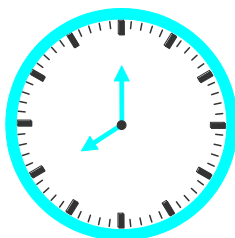
- (۱) ۹ (۲) ۱۴ (۳) ۱۰

پ) به سؤال‌های زیر پاسخ دهید.

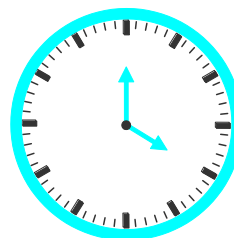
۵- سیب‌های زیر را با هر روشی که دوست دارید بشمارید و بنویسید از چه راهی برای شمارش استفاده کردید؟



۶- ابتدا ساعت‌ها را با اعداد لاتین کامل کنید، سپس بگویید هر ساعت چه زمانی را نشان می‌دهد؟

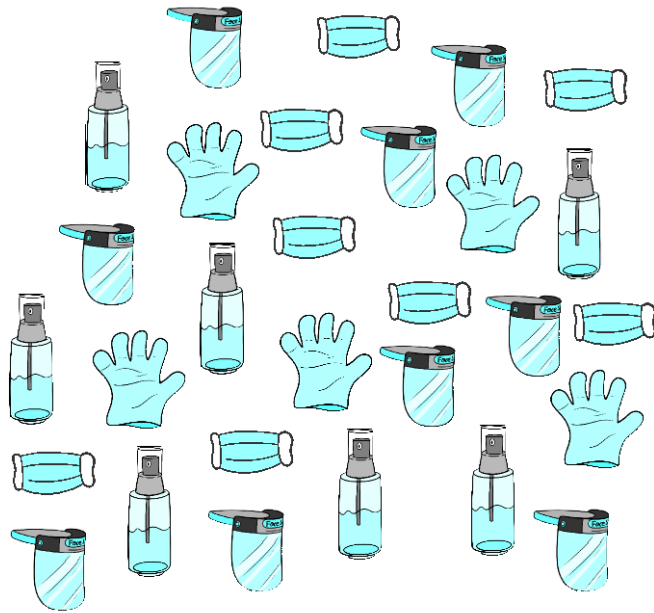






.....



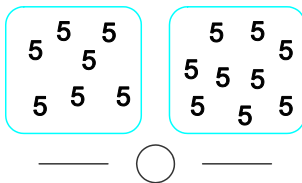
.....

۷- با توجه به تصویر تعداد هر شکل را در جدول با چوب خط نشان دهید، سپس عدد مربوط به هر چوب خط را به حروف بنویسید.



			
.....

۸- حدس بزنید در کدام شکل تعداد عدد 5 بیش تر است؟



_____ ○ _____

سپس تعداد هر دسته را بشمارید و جای خالی را پر کنید.

۹- جدول شگفت‌انگیز زیر را کامل کنید.

۲	۴	۵	۸	۱	۹	۷	۶	
۷	۱		۲	۳		۴	۵	۹
۳	۶			۴	۵	۱	۸	
	۷	۶		۲	۴	۵	۹	۸
	۵	۲	۱	۹	۸	۳		۷
۸	۹	۳		۶	۷			
۵	۲	۴	۶			۹	۷	۳
۶		۱		۷	۲	۸	۴	۵
۹		۷	۴	۵	۳		۲	۱