

پاسخ آزمون موضوع ۱ - فصل ۱ - ریاضی دوم دبستان

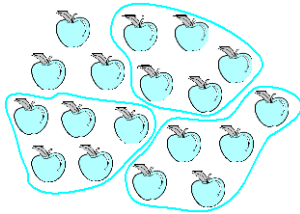
۱-۵ [۴]

۲-۱۲ [۱]

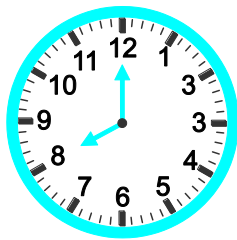
۳-گزینه «۳» [۱]

۴-گزینه «۲» [۱]

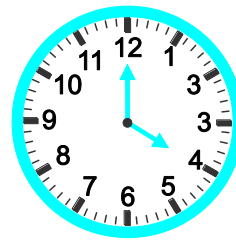
۵-۱۸ تا - از روش دسته‌بندی ۵ تایی [۱]



۶- [۴] و [۵]



ساعت ۸ است.



ساعت ۴ است.

۷- [۲]

### //	###	### //	### //
هشت	پنج	هفت	نه

۸- حدس می‌زنیم در شکل سمت راست تعداد عددهای ۵ بیشتر است. [۵] و [۶]

۹ < ۷

۹- [۳]

۲	۴	۵	۸	۱	۹	۷	۳	۶
۷	۱	۸	۲	۳	۶	۴	۵	۹
۳	۶	۹	۷	۴	۵	۱	۸	۲
۱	۷	۶	۳	۲	۴	۵	۹	۸
۴	۵	۲	۱	۹	۸	۳	۶	۷
۸	۹	۳	۵	۶	۷	۲	۱	۴
۵	۲	۴	۶	۸	۱	۹	۷	۳
۶	۳	۱	۹	۷	۲	۸	۴	۵
۹	۸	۷	۴	۵	۳	۶	۲	۱